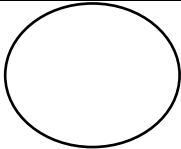



«به نام خدا»

نام و نام خانوادگی: تاریخ آزمون: 1401/3/1

پایه پنجم ابتدایی دبستان غیر دولتی سرای دانش نام آموزگار: خانم حسنی

ردیف	پاسخ سوال
1	<p>باتوجه به عدد مقابل به پرسش های زیر پاسخ دهید. $42,073,053/68$</p> <p>الف) رقم 6 درجه مرتبه ای قرار دارد؟ دهم</p> <p>ب) ارزش مکانی کدام رقم بیشتر است؟ چهار در دهگان میلیون</p> <p>ج) عدد را به حروف بنویسید؟ چهل و دو میلیون و هفتاد و سه هزار و پنجاه و سه و شصت و هشت صد</p>
2	<p>9:30</p> <p>اگر 80 دقیقه ی دیگر ساعت 9:30 باشد، هم اکنون ساعت چند است؟ 1:20-</p> <p>-----</p> <p>8:10</p>
3	<p>در جای خالی عدد مناسب بنویسید.</p> <p>7</p> <p>=2 و =16 =8=29</p>
4	<p>پارچه فروشی 40 متر پارچه داشت. بار اول $4\frac{14}{100}$ متر و بار دوم $\frac{3}{4}$ متر پارچه را فروخت. او چند متر پارچه فروخت؟</p> <p>چند متر پارچه برایش باقی مانده است؟</p> <p>$\frac{4}{25}$</p> <p>-----</p> <p>$\frac{3}{40}$</p> <p>$\frac{40}{00}$</p>

<p style="text-align: right;">----- 7/65 7/65 32/35</p>							
<p>محیط مستطیلی 200 متر است. اگر نسبت طول به عرض آن 3 به 2 باشد ، مساحت آن چند سانتی متر مربع است؟</p> <table border="1" data-bbox="1161 478 1352 667"> <tr><td>2</td><td>40</td></tr> <tr><td>3</td><td>60</td></tr> <tr><td>5</td><td>100</td></tr> </table> <p style="text-align: center;">$40 \times 60 = 2400$</p> <p style="text-align: center;">$200 \div 2 = 100$</p>	2	40	3	60	5	100	5
2	40						
3	60						
5	100						
<div style="display: flex; justify-content: space-around; align-items: center;">   </div> <p style="text-align: right;">20% دایره و 25% مستطیل را رنگ کنید</p> <p style="text-align: right;">25 1201</p> <p style="text-align: right;">---- = ---- ---- = ----</p> <p style="text-align: right;">100 51004</p>	6						
<p>محمد مبلغ 2460 تومان از برادرش بیشتر پول دارد، اگر پول او 4 برابر برادرش باشد پول هر کدام چقدر است؟</p> <table border="1" data-bbox="1156 1598 1352 1787"> <tr><td>4</td><td>3280</td></tr> <tr><td>1</td><td>820</td></tr> <tr><td>3</td><td>2460</td></tr> </table>	4	3280	1	820	3	2460	7
4	3280						
1	820						
3	2460						

$$820 \div 3 = 820$$

8

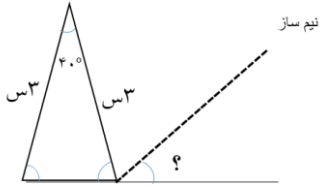
امیر با 30% پولش 4 دفتر 3000 تومانی خرید، کل پول او چقدر است؟

30	12000
100	40000

$$4 \times 3000 = 12000$$

اندازه زاویه خواسته شده را به دست آورید.

$$180-40=140, 140 \div 2=70, 180-70=110, 110 \div 2=55$$



مساحت قسمت هاشور خورده را حساب کنید.

(اندازه قطرهای لوزی 3 و 4 سانتی متر است)

$$\text{مساحت دوزنقه} = (9+5) \times 3 \div 2 = 21$$

مساحت لوزی

$$2 \times 3 \div 2 = 3$$

$$21 - 3 = 18 \text{ مساحت هاشور}$$

در جاهای خالی عدد مناسب بنویسید.

الف) $0/5$ یعنی 5 تا $0/1$

ب) $6/3$ یعنی 630 تا $0/01$

ج) 45 - عدد 400 می شود 320 تا

د) ثلث زاویه نیم صفحه می شود 60 درجه

موفق باشید